

Prénom :

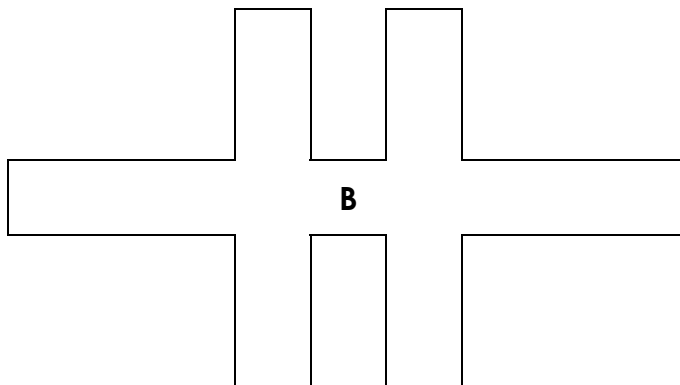
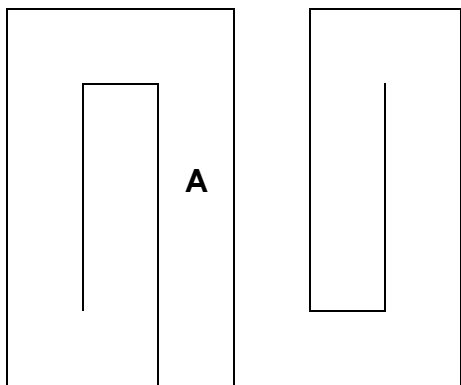
Date :



LES LONGUEURS

Les unités de longueur – Exercices (12)

1./ A l'aide de ta règle graduée, mesure la longueur totale de ces lignes brisées :



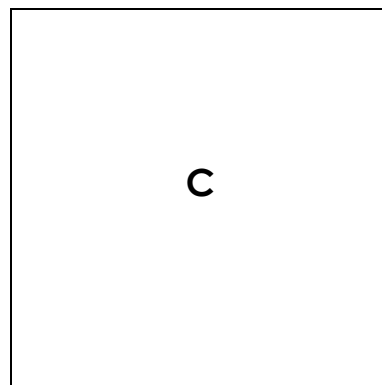
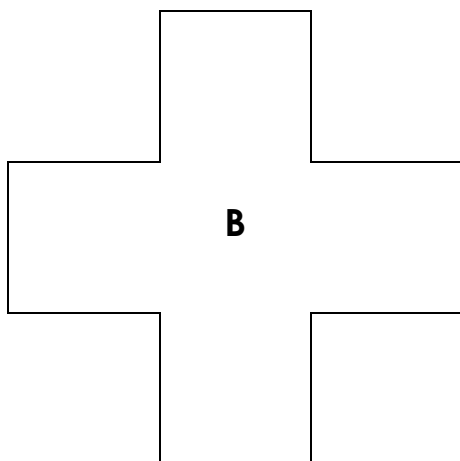

La ligne A mesure :

La ligne B mesure :

- A est une **ligne brisée ouverte**.

- B est une **ligne brisée fermée**, déterminant une figure géométrique appelée un **polygone**. En additionnant les mesures de ses côtés, on calcule le **périmètre** du polygone.

2./ Calcule le périmètre des figures suivantes (en cm et en mm) :



Le périmètre de A est de :

Le périmètre de B est de :

Le périmètre de C est de :