

Prénom : .....

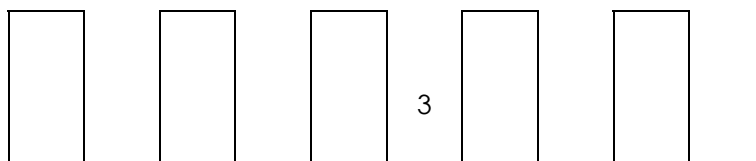
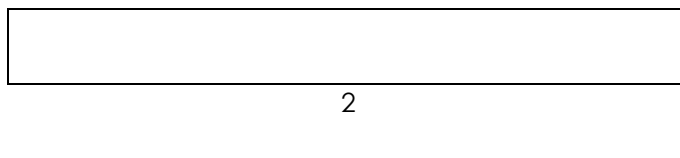
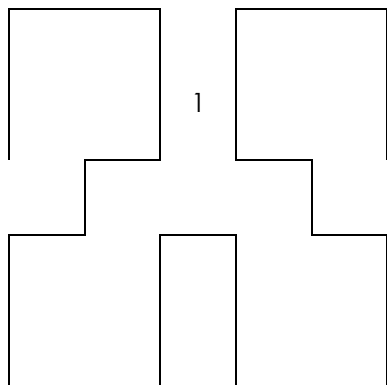
Date : .....



# LES LONGUEURS

Les unités de longueur – Exercices (11)

1./ A l'aide de ta règle graduée, mesure les longueurs des lignes brisées ci-dessous.



La ligne 1 mesure : .....

.....

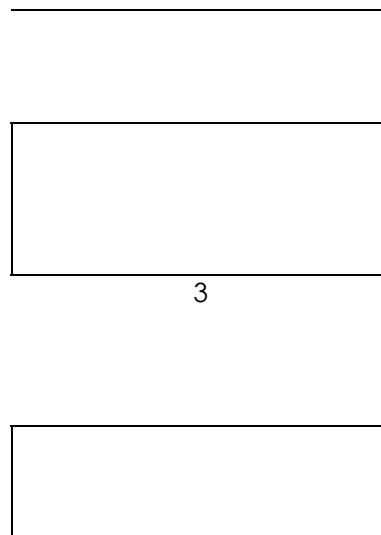
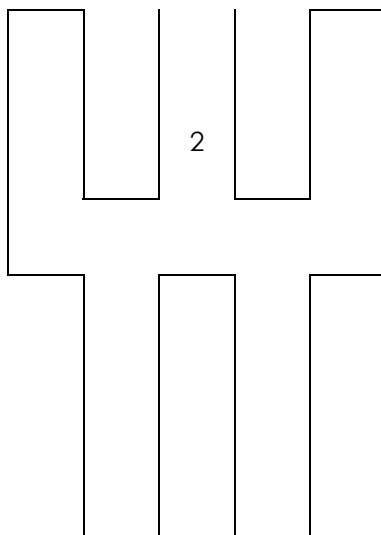
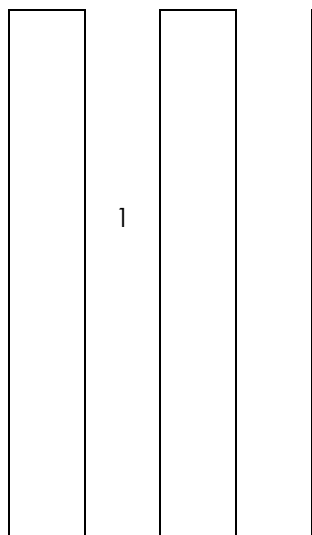
La ligne 2 mesure : .....

.....

La ligne 3 mesure : .....

.....

2./ Laquelle de ces lignes brisées est la plus longue ? la plus courte ?



La ligne 1 mesure : .....

.....

La ligne 2 mesure : .....

.....

La ligne 3 mesure : .....

.....

La ligne la plus longue est la ligne .....

La ligne la plus courte est la ligne .....