

Prénom :







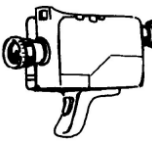

Date :

	LA MONNAIE Les euros (€) <small>(07)</small>
---	--

Rappel :

0,75 € = 0 euro et 75 cents	1,05 € = 1 euro et 5 cts	149,90 € = 149 € et 90 c
-----------------------------	--------------------------	--------------------------

- Voici des articles extraits d'un catalogue d'un magasin d'électroménager :

 Aspirateur : 149,00 €	 Cafetière : 69,00 €	 Ordinateur : 469 €	 Télévision : 150,00 €
 Jeu vidéo : 175,00 €	 Montre : 23,50 €	 Caméra : 85,00 €	 Meuble : 89,00 €

1./ Le père d'Antoine achète 1 ordinateur et 1 jeu vidéo.

- Combien doit-il payer ?

.....

.....

- Le vendeur lui accorde une réduction de 25 euros. Combien va-t-il payer ?

.....

.....

2./ Le père de François achète 1 télévision et une montre.

- Combien doit-il payer ?

.....

.....

- Il paye avec 2 billets de 100 €. Combien le vendeur doit-il lui rendre ?

.....

.....

3./ La maman de Sandra achète 1 aspirateur et 1 cafetière. Elle paye avec 1 billet de 100 € et 2 billets de 50 €. Combien doit lui rendre la caissière ?

.....

.....

4./ Sophie reçoit 7 euros d'argent de poche chaque semaine. Au bout de combien de semaine parviendra-t-elle à acheter une caméra ?

.....

.....